

算数

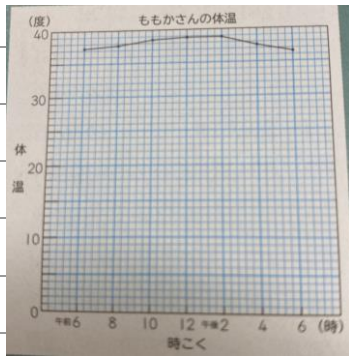
5月14日(木) 課題

折れ線グラフ

めあてをノートに書きましょう。

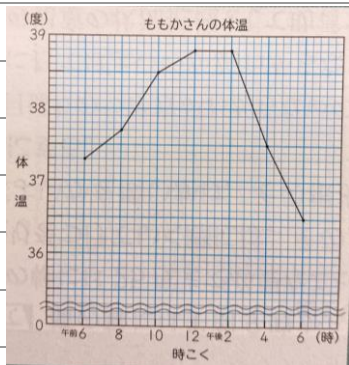
変わり方がよくわかる折れ線グラフをかこう。

P.32 ② ももかさんの体温を折れ線グラフにかいてみましょう。教科書32ページに書きましょう。



線のかたむきが小さいから、
変わり方がわかりにくいね。

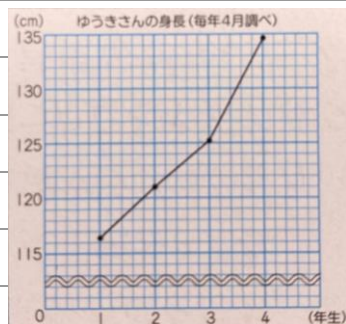
P.33 ③ グラフのつづきをかいてみましょう。



④ 32ページと33ページの折れ線グラフを見て、気づいたことを書きましょう。

- 【例】・③の方が、かたむきぐあいのがはっきりとわかるから、変わり方がよくわかる。
- ・使わない目もりの部分がはぶかれるとグラフ用紙のむだもなくなる。

③ ゆうきさんの身長を折れ線グラフにかくと、こんなグラフになります。



--	--